








Eiropas eksāmens 2021

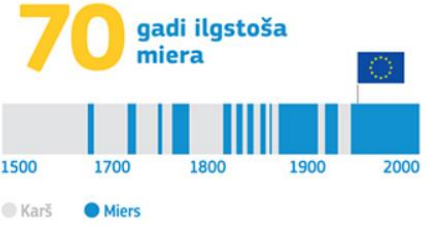

7.-9.klases

Nr.	Jautājums	Pareiza atbilde	Nepareiza atbilde	Nepareiza atbilde																		
1.	<p>Apskati grafiku un atzīmē pareizo apgalvojumu!</p> <p>Sievietes vadībā Q3, 2020 (% no visiem vadītājiem)</p> <table border="1"> <caption>Sievietes vadībā, Q3, 2020 (% no visiem vadītājiem)</caption> <thead> <tr> <th>Valsts</th> <th>Procenti</th> </tr> </thead> <tbody> <tr><td>Latvija</td><td>45</td></tr> <tr><td>Zviedrija</td><td>42</td></tr> <tr><td>Somija</td><td>37</td></tr> <tr><td>Igaunija</td><td>36</td></tr> <tr><td>Francija</td><td>36</td></tr> <tr><td>Lietuva</td><td>35</td></tr> <tr><td>ES</td><td>34</td></tr> <tr><td>Beļģija</td><td>34</td></tr> </tbody> </table>	Valsts	Procenti	Latvija	45	Zviedrija	42	Somija	37	Igaunija	36	Francija	36	Lietuva	35	ES	34	Beļģija	34	Latvija ir Eiropas Savienības līdere sieviešu īpatsvarā uzņēmumu vadībā	Latvijā divas reizes vairāk sieviešu ir uzņēmumu vadībā nekā Eiropas Savienībā caurmērā	Igaunijā un Lietuvā ir lielāks procentuālais sieviešu īpatsvars uzņēmumu vadībā nekā Latvijā
Valsts	Procenti																					
Latvija	45																					
Zviedrija	42																					
Somija	37																					
Igaunija	36																					
Francija	36																					
Lietuva	35																					
ES	34																					
Beļģija	34																					
2.	<p>Apskati grafiku un atzīmē pareizo apgalvojumu!</p> <p>VALSTS IESTĀŽU MĀJASLAPU IEDZĪVOTĀJU APMEKLĒTĪBA, 2020</p> <table border="1"> <caption>VALSTS IESTĀŽU MĀJASLAPU IEDZĪVOTĀJU APMEKLĒTĪBA, 2020</caption> <thead> <tr> <th>Valsts</th> <th>Procenti</th> </tr> </thead> <tbody> <tr><td>Zviedrija</td><td>89%</td></tr> <tr><td>Latvija</td><td>68%</td></tr> <tr><td>Igaunija</td><td>67%</td></tr> <tr><td>Lietuva</td><td>54%</td></tr> <tr><td>Grieķija</td><td>52%</td></tr> <tr><td>Slovākija</td><td>51%</td></tr> <tr><td>Polija</td><td>27%</td></tr> <tr><td>ES</td><td>47%</td></tr> </tbody> </table>	Valsts	Procenti	Zviedrija	89%	Latvija	68%	Igaunija	67%	Lietuva	54%	Grieķija	52%	Slovākija	51%	Polija	27%	ES	47%	Vairāk nekā 60% Latvijas iedzīvotāju 2020. gadā ir meklējuši informāciju valsts iestāžu mājaslapās	Zviedrijā zemāks iedzīvotāju skaits nekā Latvijā 2020. gadā ir apmeklējis valsts iestāžu mājaslapas	Lietuvas iedzīvotāji visaktīvāk apmeklē valsts iestāžu mājaslapas
Valsts	Procenti																					
Zviedrija	89%																					
Latvija	68%																					
Igaunija	67%																					
Lietuva	54%																					
Grieķija	52%																					
Slovākija	51%																					
Polija	27%																					
ES	47%																					
3.	<p>Šī iniciatīva:</p>	aicina pārtraukt kaitēkļu un nezāļu indes lietošanu un atbalstīt lauksaimniekus	mudina sākt nezāļu indes lietošanu un atbalstīt lauksaimniekus, kas to dara	aicina izstrādāt cepures un darbarīkus lauksaimniekiem																		
4.	Lietus, vēja ātrums, saulaina diena ir:	laikapstākļi	klimats	klimata pārmaiņas																		
5.	Vidējā temperatūra vasarā raksturo:	klimatu	laikapstākļus	nokrišņus																		
6.	Ap zemeslodes poliem kūst ledus, okeāna līmenis ceļas, rodas netipiski karstuma viļņi, neierasti sausuma periodi.	Tās ir klimata pārmaiņas	Tie ir laikapstākļi	Tie ir nokrišņi																		

7.	Dzīvnieku un kukaiņu sugu skaits pasaulē šobrīd:	samazinās cilvēku radītā piesārņojuma un citu darbību rezultātā	palielinās cilvēku darbības rezultātā	saglabājas ierastā līmenī
8.	 <p>Šī eiro monēta ir izdota par godu:</p>	Latvijas diplomātiskās atzīšanas 100. gadadienai	Latvijas proklamēšanas 100. gadadienai	Latvijas diplomātiskās atzīšanas 2021. dienai
9.	To reizi piecos gados tiešās vēlēšanās ievēlē ES valstu pilsoņi, tā deputāti pārstāv pilsoņu intereses.	Eiropas Parlaments	Eiropas Savienības parlaments	Eiropas Komisija
10.	Eiropas Komisija pārstāv: 	Eiropas Savienības kopējās intereses	Eiropas Savienības dalībvalstu prezidentu intereses	Eiropas Savienības lielāko valstu intereses
11.	Saksofonu ir radījis: 	beļģu izgudrotājs Ādolfs Sakss	austriešu komponists Volfgangs Amadejs Mocarts	Francijas ārlietu ministrs Robērs Šūmanis
12.	 <p>Šī ir:</p>	Igaunijas eiro monēta	Latvijas eiro monēta	Itālijas eiro monēta
13.	Pirmā valsts pasaulē, kas izmantoja interneta balsošanas sistēmu vietējās vēlēšanās 2005. gadā un vēlāk arī parlamenta un Eiropas Parlamenta vēlēšanās, ir:	Igaunija	Vācija	Beļģija

14.	Eiropas Savienības darbības pamatā ir:	demokrātija	diktatūra	leiputrija
15.	Pirmā valsts Eiropā, kas 1906. gadā piešķīra balsošanas tiesības sievietēm, ir:	Somija	Lietuva	Spānija
16.	Šī ēka atrodas: 	Itālijā	Francijā	Polijā
17.	Šis tornis atrodas: 	Francijā	Vācijā	Beļģijā
18.	Eiro banknotēs attēlotās celtnes parāda periodus Eiropas arhitektūrā. Attēlotie stili ir sakārtoti: 	no senākā uz jaunāko, 5 eiro banknotē redzams antīkais periods	no jaunākā uz vecāko, 200 eiro banknotē redzams antīkais periods	atbilstoši karos uzvarējušajām valstīm, nekādas secības nav
19.	Uz eiro banknotēm redzami logi un durvis: 	simbolizē Eiropas Savienības valstu atvērtību un sadarbību	attēlo Eiropas Savienības valstu drošības mehānismus	attēlo sakāmvārdu: "ar labu atslēgu visas durvis var atslēgt"
20.	Pēc platības mazākā Eiropas Savienības valsts ir:	Malta	Igaunija	Ungārija

21.	Kuras Eiropas Savienības valsts simboli šie ir? 	Nīderlandes	Spānijas	Lietuvas
22.	Uz eiro banknotēm ir norādīts eiro nosaukums: 	latīņu, grieķu alfabētā un kirilicā – tie ir 3 alfabēti, kas tiek izmantoti Eiropas Savienības oficiālajās valodās	latīņu, grieķu alfabētā un kirilicā – tie ir 3 alfabēti, kas tiek izmantoti pasaules lielākajās valstīs	latīņu, grieķu alfabētā un Morzes kodā
23.	Saules enerģija rodas no:	saules gaismas	augstas temperatūras	laikapstākļu svārstībām
24.	Termiņš “klimatneitrāls” nozīmē:	līdzsvaru starp kaitīgām un pozitīvām darbībām klimata pārmaiņu kontekstā	vēja enerģijas nulles līmeni	siltumnīcefekta gāzu uzsūkšanas zemāko līmeni
25.	Atzīmē videi draudzīgāko pārvietošanās veidu!	Braukt ar velosipēdu	Braukt ar mašīnu	Lidot ar lidmašīnu
26.	“Vara pieder tautai” raksturo:	demokrātiju	feodālismu	monarhiju
27.	Vārds “investīcija” nozīmē:	ieguldījums	balva	atalgojums
28.	Eiropas Savienība ir:	politiska un ekonomiska savienība, ko veido 27 dalībvalstis	politiska un militāra savienība, ko veido 27 dalībvalstis	politiska un militāra savienība, ko veido visas Eiropas valstis
29.	Šī ir: 	elektromobiļu uzlādes stacija	degvielas uzpildes stacija	sadzīves bateriju uzlādes stacija

30.	 <p>Laika ass atspoguļo Eiropas Savienības spēju nodrošināt:</p>	ilgstošu mieru tās dalībvalstīs	mieru kopš Pirmā pasaules kara	70 gada mieru starp Pirmo un Otro pasaules karu
31.	Eiropas Savienības ekonomikas galvenais dzinējspēks ir vienotais tirgus. Tas nodrošina:	preču, pakalpojumu un kapitāla netraucētu apriti, cilvēku brīvu pārvietošanos	preču un pakalpojumu stingri ierobežotu apriti	preču un pakalpojumu netraucētu apriti, bet ne cilvēku brīvu pārvietošanos
32.	Izteikt uzlabojumus skolas darbā un sekmēt to īstenošanu nozīmē:	aktīvi līdzdarboties	graut skolas kārtību	pārkāpt skolēna tiesības
33.	Prast droši lietot digitālas ierīces, apzināties riskus internetā un izvairīties no tiem ir:	digitālās prasmes	kritiskās domāšanas prasmes	valodu prasmes
34.	Ja esi Latvijas pilsonis un lidostā redzi šādu zīmi, tu: 	vari iet pa šo eju	nevari iet pa šo eju	vari iet pa šo eju, ja tev ir zilās krāsas pase
35.	Eiropas diena, ko ik gadu svinam 9. maijā, ir veltīta:	R. Šūmaņa runai 1950. gada 9. maijā, kurā viņš ierosināja Eiropas valstīm jaunu sadarbības veidu, kas izslēgtu kara iespējamību.	V. Čērčila runai 1950. gada 9. maijā, kurā viņš ierosināja Eiropas valstīm jaunu sadarbības veidu, kas izslēgtu kara iespējamību.	R. Šūmaņa runai 1970. gada 9. maijā, kurā viņš ierosināja Eiropas valstīm jaunu sadarbības veidu, kas izslēgtu kara iespējamību